


JARO

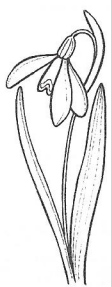
1. Dokreslete obrázek tak, aby se změnil na jarní krajinu.



2. Doplňte věty.

21. března začíná _____ Jarní měsíce jsou
 _____ a _____. Den se
 _____ a noc se _____.

3. Křížovka.



1.


2.	S		Ě			N			
3.	S				I			S	K
4.	V				Š		V		

3.



Tajenka: _____.

--	--	--	--



4.

4. Znázorněte pomocí značek, jaké počasí bývá na jaře.

--	--	--	--	--	--	--	--