




## INVESTICE DO ROZVOJE VZDĚLÁVÁNÍ

<b>Základní škola a mateřská škola Tomáše Ježka Ralsko – Kuřívody</b>			
<b>Šablona</b>	IV/2 Inovace a zkvalitnění výuky směřující k rozvoji matematické gramotnosti žáků základních škol		<b>EU 1/33</b>
<b>DUM číslo</b>	32.	Veverky	
<b>Datum vytvoření</b>	květen	<b>Datum ověření</b>	22.5.2012
<b>Časový rozsah</b>	25 – 30 minut		
<b>Anotace</b>	Žáci zábavnou formou počítají příklady na odčítání v oboru do 20 s přechodem 10.		
<b>Autor</b>	Mgr. Ivana Švehlová	<b>Jazyk</b>	čeština
<b>Cílová skupina</b>	žák	<b>Stupeň a typ vzdělávání</b>	Základní vzdělávání - první stupeň - první období
<b>Očekávaný výstup</b>	používá přirozená čísla k modelování reálných situací, řeší a tvoří slovní úlohy, ve kterých aplikuje a modeluje osvojené početní operace		
<b>Speciální vzdělávací potřeby</b>	- žádné -	<b>Druh interaktivity</b>	aktivita
<b>Klíčová slova</b>	Odčítání, veverky, šišky		
<b>Druh učebního materiálu</b>	prezentace	<b>Celková velikost</b>	384 kB


**Veverky si na zimu udělaly zásobu šišek.  
Každá veverka nasbírala 12 šišek  
a přes zimu snědla ze své zásoby jiný počet.  
Vypočítej, kolik které veverce zbylo šišek.**



**1. Veverka si nanosila do pelíšku 12 šišek.  
Během zimy snědla 5 šišek.  
Kolik šišek jí zůstalo?**




$$12 - 5 =$$



**2. Veverka si nanosila do pelíšku také 12 šišek.  
Během zimy snědla 8 šišek.  
Kolik šišek jí zůstalo?**




$$12 - 8 =$$





**3. Veverka si nanosila do pelíšku  
také 12 šišek.  
Během zimy snědla 4 šišky.  
Kolik šišek jí zůstalo?**

$$12 - 4 =$$






**4. Veverka si nanosila do pelíšku  
12 šišek.**

**Během zimy snědla 9 šišek.  
Kolik šišek jí zůstalo?**

$$12 - 9 =$$







**I 5. veverka si nanosila do pelíšku 12  
šišek.**

**Během zimy snědla jenom 3 šišky.  
Kolik šišek jí zůstalo?**

$$12 - 3 =$$

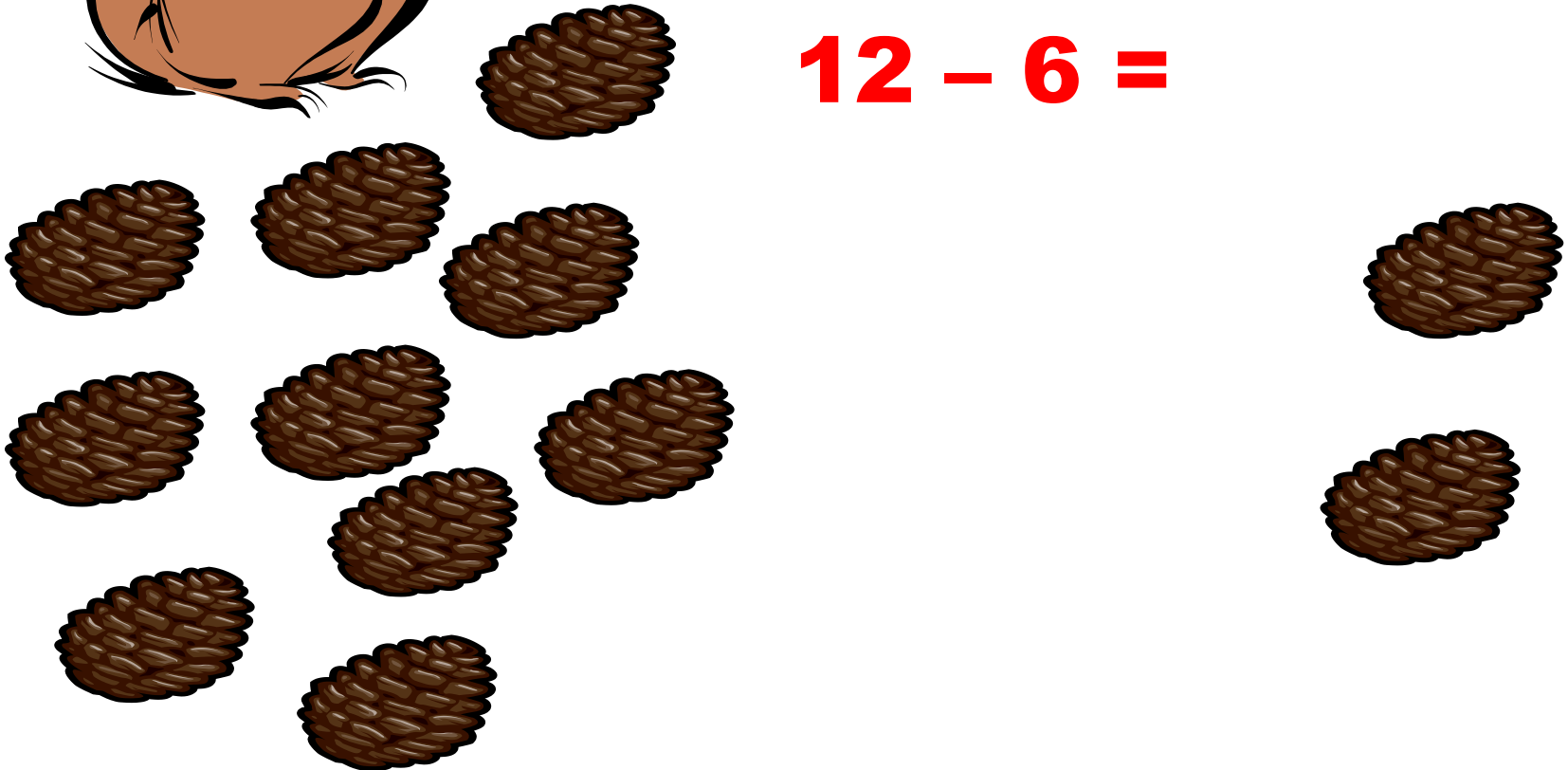


**6. veverka si nanosila do pelíšku 12  
šišek.**

**Během zimy snědla 6 šišek.  
Kolik šišek jí zůstalo?**



$$12 - 6 =$$









**Poslední veverka si nanosila do  
pelíšku také 12 šišek.  
Během zimy snědla 7 šišek.  
Kolik šišek jí zůstalo?**

$$12 - 7 =$$



# PROCVIČUJ

$12 - 8 =$

$12 - 3 =$

$12 - 5 =$

$12 - 9 =$

$12 - 4 =$

$12 - 7 =$

$12 - 6 =$

**Zdroje: [www.office.microsoft.com](http://www.office.microsoft.com)**

Materiály jsou určeny pro bezplatné používání pro potřeby  
výuky  
a vzdělávání na všech typech škol a školských zařízení.  
Jakékoliv další využití podléhá autorskému zákonu.